

ПРИГЛАСИТЕЛЬНЫЙ ШКОЛЬНЫЙ ЭТАП
ВСЕРОССИЙСКОЙ ОЛИМПИАДЫ
ШКОЛЬНИКОВ ИСТОРИЯ. 2024 г. 6 класс

1-6. Рассмотрите представленное изображение и выполните предложенные задания.

Афиша Авиньонского фестиваля



1. Учитывая место проведения и символику фестиваля, укажите название высшего церковного сана, имеющего непосредственное отношение к истории этого города, отразившееся в символике фестиваля.

Внимание! Ответы с орфографическими ошибками не засчитываются. Запишите в поле ответа ДВА СЛОВА.

2. Укажите название направления в христианстве, во главе которого находится духовное лицо, носящее этот сан.

3. Укажите век, когда главная резиденция духовного лица, носившего указанный вами сан, располагалась в городе, где проводится фестиваль.

Запишите в поле ответа ДВЕ ЦИФРЫ БЕЗ букв, пробелов и знаков препинания.

4. Назовите государство, на территории которого располагался город проведения фестиваля в эпоху, когда там находилась главная резиденция духовного лица, о котором речь шла выше.

Внимание! Ответы с орфографическими ошибками не засчитываются.

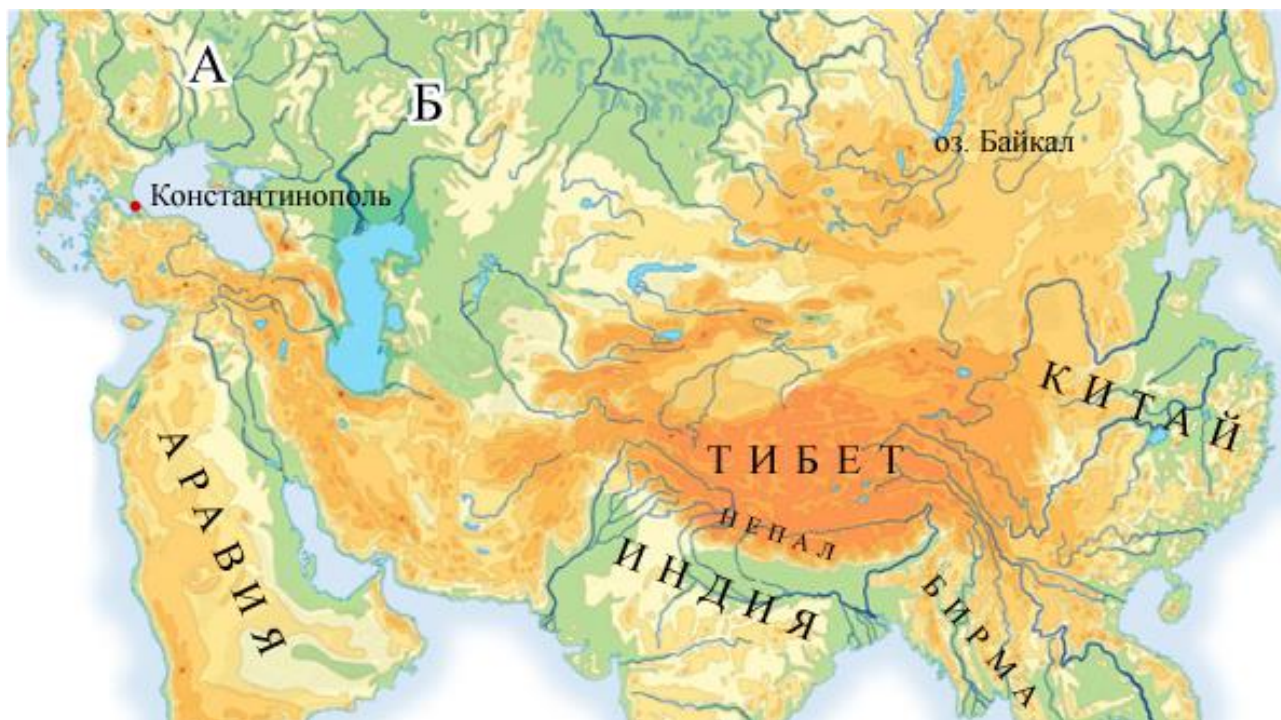
5. Выберите из приведённого ниже списка правителя государства, предложившего духовному лицу разместить свою резиденцию в городе проведения фестиваля.

- А) Ричард Львиное Сердце
- Б) Филипп II Август
- В) Гуго Капет
- Г) Оттон I
- Д) Мануил I Комнин
- Е) Филипп IV Красивый
- Ж) Михаил VIII Палеолог
- З) Генрих I

6. Из предложенного ниже списка выберите современников пребывания духовного лица, носившего указанный вами высший церковный сан, в городе проведения фестиваля.

- А) Ричард Львиное Сердце
- Б) Петрарка
- В) Фридрих II Барбаросса
- Г) Карл Великий
- Д) Хлодвиг
- Е) Джотто

7-11. Рассмотрите представленную схему и выполните задания.



7. Выберите из списка названия государств, обозначенных буквами «А» и «Б».

- 1) Древнерусское государство
- 2) Никейская империя

- 3) Трапезундская империя
- 4) Волжская Булгария
- 5) Королевство Польша
- 6) Великое княжество Литовское
- 7) Равеннский экзархат
- 8) Золотая Орда

8. Выберите из списка ниже двух правителей государства «А», осуществлявших военные походы на государство «Б».

- А) Алексей I Великий Комнин
- Б) Михаил VIII Палеолог
- В) Святослав Игоревич
- Г) Оттон III
- Д) Мешко I
- Е) Болеслав Храбрый
- Ж) Владимир I Святославич
- З) Ольгерд
- И) Гедимин

9. Укажите год, который считается годом распада государства, обозначенного буквой «А».


*Внимание! Запишите год четырьмя цифрами **БЕЗ** букв, пробелов и знаков препинания.*

10. Укажите век, когда в течение половины столетия границы азиатских государств (Центральная, Юго-Восточная и Западная Азия) резко изменились. *Внимание! Запишите год двумя цифрами **БЕЗ** букв, пробелов и знаков препинания.*

11. Выберите причину резкого изменения границ азиатских государств из приведённого списка.

- 1) IV Крестовый поход, падение Византии
- 2) распад Древнерусского государства
- 3) образование и усиление Литовского княжества
- 4) эпидемия чумы
- 5) образование империи Чингисхана
- 6) клонийское возрождение
- 7) открытие морского пути в Индию
- 8) перенесение Мухаммедом столицы из Мекки в Медину (хиджра)

12. Рассмотрите представленные летописные миниатюры и сопоставьте номер изображения с предложенным описанием.



1



2



3



4

5



5

13. Рассмотрите представленные изображения и выберите из них те, что относятся к Великой Отечественной войне.




1



2



3



4



5



6



7



8

Итого 31 балл.